



**TP KAHTA KIZ ANADOLU  
İMAM HATİP  
FEN VE SOSYAL BİLİMLER  
PROJE ORTAOKULU  
5.SINIFA KABUL SINAVI**



ÖRNEKTİR (A) (B) (C) (D)

DERSİN ADI	SORU SAYISI	TOPLAM SORU SAYISI	SINAV SÜRESİ
TÜRKÇE	15 (1-15)	60 ADET	90 DAKİKA
MATEMATİK	15 (16-30)		
FEN BİLGİSİ	10 (31-40)		
SOSYAL BİLGİLER	10 (41-50)		
YABANCI DİL	5 (51-55)		
DİN KÜLTÜRÜ VE AHLAK BİLGİSİ	5 (56-60)		

#### AÇIKLAMALAR

Sınav öncesi aşağıdaki uyarıları mutlaka dikkate alınız

- \* Sınav süresince sözlük, hesap makinesi ve cep telefonu vs. kullanmak yasaktır.
- \* Soruların çözümü için ayrıca boş kâğıt verilmeyecektir. Çözüm için kitapçığın içindeki boş alanları kullanınız.
- \* Sadece soru kitapçığı üzerinde yapılan cevaplamalar geçersizdir. Cevapları mutlaka size verilen optik kâğıdına işaretleyiniz.
- \* Cevaplarınızı siyah ve yumuşak uçlu bir kalemle işaretleyiniz.
- \* İşaretleme yaparken kutucukların dışına taşmayınız.
- \* Her sorunun bir tek doğru cevap vardır.  
Birden fazla işaretleme yapmayınız.
- \* 3 yanlış bir doğruya götürülecektir.  
Cevabından emin olmadığınız soruyu işaretleme yapmayınız.
- \* Cevap için kullandığınız optik kâğıdı lütfen katlamayınız ve buruşturmayınız.
- \* Sınav bitiminde cevap kâğıdını sınav görevlilerine teslim etmeyi unuzmayınız.

#### ÖĞRENCİNİN

ADI : .....

SOYADI : .....

SINIFI : .....




OKULU : .....

TC NO : .....



**TP KAHTA KIZ ANADOLU İMAM HATİP  
FEN VE SOSYAL BİLİMLER PROJE ORTAOKULU  
5.SINIFA KABUL SINAVI**



Kelime	Kelimenin Eş Anlamlısı	Kelimenin Zıt Anlamlısı
	Üzgün	Neşeli
Yoksul		Zengin
Yarar	Fayda	

Yukarıdaki tabloda verilen kelimeler, anlam özelliklerine göre ilgili yerlere yazılmıştır.

1) Bu tabloya göre sembollerle belirtilen yerlere yazılması gereken kelimeler aşağıdaki seçeneklerin hangisinde doğru olarak verilmiştir?

-   
- A) Mutlu                      Gariban                      Kâr  
B) Mutsuz                      Fakir                      Zarar  
C) Kederli                      Fukara                      İlave  
D) Hüzünlü                      Varlıklı                      Zıyan

I. Hazırlanan yiyeceklerle birlikte okulun bahçesinde bekleyen servise binmeye başladılar.

II. Öğretmen, öğrencilerle yapacağı etkinlikten dolayı hem endişeli hem de mutuydu.

III. Sınıfta börek hazırlayan başka öğrenciler de vardı ama annesinin el lezzetine güveniyordu.

IV. Hafta sonu sınıfça pikniğe gideceklerdi. Annesi piknik için börek hazırlamıştı.

2) Yukarıdaki numaralanmış cümleler olayların oluşuna göre nasıl sıralanmalıdır?

- A) II-IV-III-I  
B) II-I-IV-III  
C) IV-III-I-II  
D) IV-II-I-III

Ahmet, Zeynep, Merve ve Emre adlarındaki dört arkadaş, yazı tura atarak ve "K, S, M, L- A, E, I" harflerini seçerek bir kelime oyunu hazırlar. Oyunun kurallarını şöyle belirlerler:

- \*Metal para dört kere atılacak.  
\*Yazı gelirse sesli harf, tura gelirse sessiz harf kullanılacak.  
\*Her harf yalnızca bir kere kullanılacak.  
\*Dört harfli anlamlı kelimeler türetilecek.

Aşağıdaki tabloya göre metal paralar sırasıyla atılır ve kelimeler yazılır.

Kişi	Metal Para Atma Sıralaması	Bulduğu Kelime
Ahmet	Tura, yazı, tura, yazı	Kısa
Zeynep	Yazı, tura, tura, yazı	Elma
Merve	Tura, yazı, tura, yazı	Sema
Emre	Tura, yazı, yazı, tura	Klas

3) Yukarıdaki bilgilere göre dört kişiden biri yanlış bir kelime yazar. Yanlış kelime yazan kimdir?

- A. Ahmet                      B. Zeynep  
C. Merve                      D. Emre

Birçok firma, kendi ürünlerini kullanıcılara tanıtmak amacıyla akıllı teknolojileri kullanmaya başladı. Özellikle "Google" gibi arama motorlarında müşterilerinin ilgi ve isteklerini yapay zeka kullanarak öğrenmeye başladı. Örneğin mama sandalyesini arayan kullanıcılara bebek ürünleriyle alakalı farklı ürünler de gösterildi.

4) Arama motorlarında 'kitaplık' modellerine bakan birisi birkaç gün sonra girdiği internet sitelerinden hangi reklamı görmesi normal karşılanır?

- A) Koltuk takımı  
B) Ev aksesuarları  
C) Çalışma masası  
D) Bilgisayar



**TP KAHTA KIZ ANADOLU İMAM HATİP  
FEN VE SOSYAL BİLİMLER PROJE ORTAOKULU  
5. SINIFA KABUL SINAVI**



5) "Bırakmak" sözcüğü aşağıdaki cümlelerin hangisinde 'Bir alışkanlıktan veya bir işten vazgeçmek' anlamında kullanılmıştır?

- A) Telefondan oyun oynamayı bıraktığını söyledi.  
B) Elindekileri bırak da şöyle bir karşıma geç.  
C) Kalemliğimi nereye bıraktığımı hatırlamaya çalışıyorum.  
D) Piknik işini haftaya bırakalım.

İki kişilerdi. Yolun başında bekliyorlardı. Çok endişelenmiştim. Ne yapacağımı bilemiyordum...

6) Yukarıdaki metin aşağıdaki seçeneklerin hangisiyle tamamlanırsa metne zaman unsuru eklenmiş olur?

- A) Tereddüt etmeye başladım. Kıpırdamadan yolumdan uzaklaşmalarını bekledim.  
B) Gecenin geç saatlerinde yalnız başıma çıktığıma pişman olmuşum.  
C) Elim ayağım titriyordu. Kendimi hiç bu kadar çaresiz ve korkak hissetmemiştim.  
D) Elimle telefonumu yoklamaya başladım. Kimi arayabileceğimi düşünüyordum.

Çok düşündü, gidip gitmeme konusunda biraz da .....(I) Onunla bir yeriye gitmemek için epey düşünüp.....(II) Bahaneler üreterek.....(III) karar verdi.

7) Yukarıdaki metinde numaralandırılmış boşluklara hangi deyimler sırasıyla getirilmelidir?

	I	II	III
A)	endişeye kapılmıştı.	hayaller kurmuştu.	aklına kullanmaya
B)	panik olmuştu.	çark etmişti.	bire bin katmaya
C)	dövünmeye başladı.	yol almıştı.	kendini naza çekmeye
D)	tereddüt etmişti.	kafa yormuştu.	çekip gitmeye

Kalabalık bir ailede büyüdük. Sekiz kardeşlik. İki odalı bir evde yaşıyorduk. Aynı yastığa baş koyup, aynı ekmeği bölüştürdük. Bir gün bile şu eksik bu eksik, demezdik. Önümüze ne konuluyorsa birlikte yedik. Öyle merhametli yerdik ki çoğumuz bir sonraki kardeş daha fazla yesin diye sofradan erken kalkardık. Günümüz çocuklarına bak yorsunuz, ayrı odaları, yatakları, oyuncakları, çeşit çeşit kıyafetleri var. Pekli, mutlu musun diye sorsak ne cevap alacağımızı biliyoruz.

8) Yukarıdaki paragrafta anlatılmak istenilen nedir?

- A) Çok kardeşin varsa bu hayatta mutlu olursun.  
B) Ailedeki huzuru anne, baba sağlar.  
C) Her şeye şükretmek doğru değildir.  
D) Mutluluk eidekinin kıymetini bilmekle başlar.

Güz mevsimi hep bir hüznün barındırır bende ( ) Şu üç şeyi bu mevsimde hissederim ( ) Yalnızlık ( ) pişmanlık ve ayrılık ( )

9) Yukarıdaki metinde ayrıca ile belirtilen yerlere aşağıdaki noktalama işaretlerinden hangileri sırasıyla getirilmelidir?

- A) ( ) ( ) ( ) ( )  
B) ( ) ( ) ( ) ( )  
C) ( ) ( ) ( ) ( )  
D) ( ) ( ) ( ) ( )

Bir atletizm yarışmasında son iki yüz metreye girildiğinde ilk dört sırada yer alan ülkeler şöyle yer almaktadır:

- 1) Etiyopya  
2) Senegal  
3) ABD  
4) Almanya

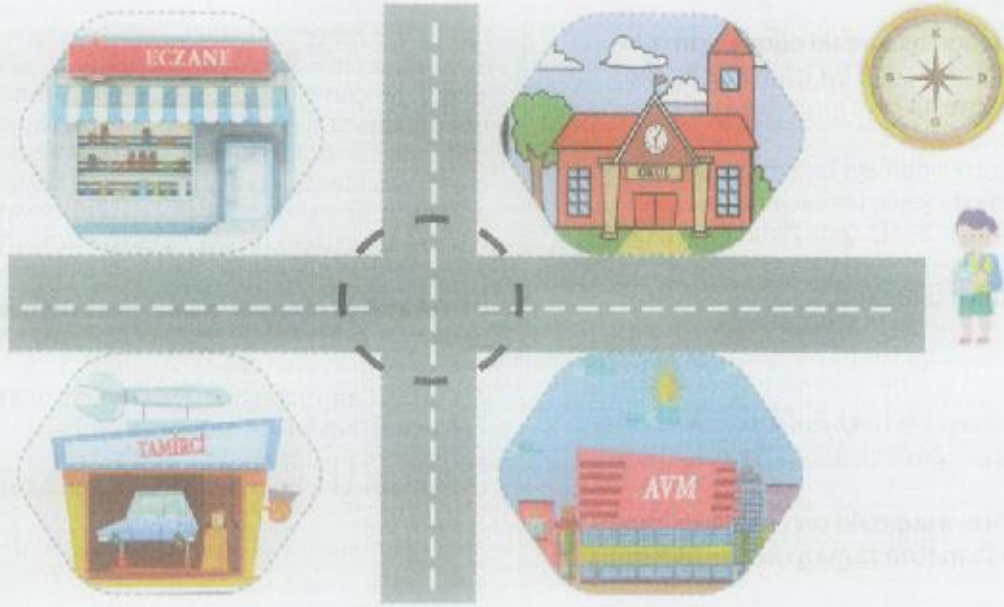
Son yüz metrede sırasıyla Alman atlet önündeki bir atleti geçmiş, Senegalli atlet de bir sıra geriye düşmüştür ve koşu böyle son bulmuştur.

10) Atletizm yarışması sonucunda Almanya kaçınıcı olmuştur?

- A) 1 B) 2 C) 3 D) 4



TP KAHTA KIZ ANADOLU İMAM HATİP  
FEN VE SOSYAL BİLİMLER PROJE ORTAOKULU  
5.SINIFA KABUL SINAVI



( Bu soru sağ üstteki pusulaya göre yapılacaktır.)

11) Eymen, başlangıç noktasından 100 metre yürüyüp dört yol kavşağına gelmiştir. Oradan 50 metre güneye, oradan da 30 metre batıya gittiğine göre Eymen, nereye gitmiştir?

- A. Okul  
B. Tamirci  
C. AVM  
D. Eczane

Nar Festivali Etkinliği

Yer: Kahta millet bahçesi  
Tarih: 25 Haziran 2023  
Saat: 20.00

Etkinliğimize sizleri de bekliyoruz.

12) Yukarıdaki davetiyede aşağıdakilerin hangisinden kaynaklanan bir yazım yanlışı yapılmıştır?

- A) Büyük harf kullanımı  
B) Saatlerin yazımı  
C) Tarihlerin yazımı  
D) -de ekin'in yazım

Affan Dede'ye para saydım,  
Sattı bana çocukluğumu.  
Artık ne yaşım var ne adım;  
Bilmiyorum kim olduğumu.  
Hiçbir şey sorulmasın benden,  
Haberim yok olan bitenden.

Bu bahar havası, bu hahçe,  
Havuzda su şiril şirildir.  
Uçurtmam bulutlardan yüce,  
Zıpzıplarım piril pirlidir.  
Ne güzel güzel dönüyor çemberim,  
Hiç bitmese horoz şekerim.

13) Cahit Sıtkı Tarancı'ndan alınan bu şiirin ana duygusu nedir?

- A) Çocukluk özlemi  
B) Yaşama sevinci  
C) Pişmanlık  
D) Gelecek kaygısı



**TP KAHTA KIZ ANADOLU İMAM HATİP  
FEN VE SOSYAL BİLİMLER PROJE ORTAOKULU  
5. SINIFA KABUL SINAVI**



Doğadaki birçok canlının yaratılışında mucizeler vardır. Kelebekler mesela, tırtıl olarak dut yapraklarının üzerindeki larvadandır. DUT yapraklarını yiyerek beslenirler. Büyümeye başladıkça kendisine koza örmeye başlar. Bir süre sonra kendisini onun içine kapatır. Birkaç hafta sonra da kozadan kelebek olarak çıkar.

**14) Yukarıdaki metnin konusu nedir?**

- A) Kelebeklerin özellikleri
- B) Doğanın gizemi
- C) Kelebeklerin beslenmesi
- D) Kelebeklerin oluşumu

**15) "Eve geç gelmesinden dolayı annesi çok kızdı." cümlesinde bir durumun gerçekleşmesi nedeniyle ifade edilmiştir. Buna göre aşağıdaki cümlelerin hangisinde bu anlam olayının bir benzeri yer almaktadır?**

- A) Ödevlerini zamanında bitirirsen bilgisayardan oyun oynayabilirsin.
- B) İngilizce öğrenmek için kursa yazıldı.
- C) Hasta olduğu için bugün okula gidemedi.
- D) Sabah erkenden kalkıp işe gideceksin.

**16) Bir fırının bir günde sattığı ekmeklerin sayısı en yakın yüzlüğe yuvarlandığında 4500 bulunuyor.**

**Bu fırının bir günde sattığı ekmeklerin sayısı en fazla kaç olabilir?**

- A) 4505
- B) 4549
- C) 4555
- D) 4599

**17) 657 849 doğal sayısı için aşağıdakilerden hangisi yanlıştır?**

- A) İki bölüklü bir doğal sayıdır.
- B) Binler bölüğünün sayı değerleri toplamı 18'dir.
- C) Sayı değeri en küçük olan rakam onlar basamağındadır.
- D) 5 rakamının basamak değeri 5000'dir.



**18) Saatteki hızları 87 ve 94 km olan iki araç aynı anda, aynı noktadan, ters yöne doğru hareket etmiştir. 3 saat sonra iki araç arasındaki mesafe kaç km olacaktır?**



- A) 355
- B) 543
- C) 441
- D) 616



**TP KAHTA KIZ ANADOLU İMAM HATİP  
FEN VE SOSYAL BİLİMLER PROJE ORTAOKULU  
5.SINIFA KABUL SINAVI**



19) Tablodaki verilen bölme işlemine göre  $A \times B$  kaçtır?

÷	10	100	1000
67 000	6700		67
2000	200	20	A
21 000			21
8000	800	B	

A) 160

B) 227

C) 120

D) 127

20) Bir okulda 55 öğretmen çalışmaktadır. Okulda, öğretmen sayısının 20 katı öğrenci bulunmaktadır. Bu okulda 1178 kişi olduğuna göre öğretmen ve öğrenci haricinde kaç kişi vardır?

A) 21

B) 22

C) 23

D) 24



21) Tablodaki bazı ülkeler ve yüz ölçümleri verilmiştir. Tablodaki ülkeleri yüz ölçümlerine göre, küçükten büyüğe doğru sıraladığımızda üçüncü sıradaki ülke hangisi olur?

Tablo: Bazı Ülkeler ve Yüz Ölçümleri

Ülke	Yüz Ölçümü (km <sup>2</sup> )
Ukrayna	603 500
Somali	634 673
Fransa	632 760
Afganistan	647 090

A) Somali

B) Fransa

C) Ukrayna

D) Afganistan

22) Tablo: Çevik Spor Mağazasının Bir Haftalık Satışı

Satılan Ürün	Alış Fiyatı (TL)	Satış Fiyatı (TL)	Satılan Adet
Basketbol topu	40	50	25
Futbol topu	25	45	25
Voleybol topu	10	25	25

Tablodaki verilere göre bu spor mağazası bir haftada kaç TL kâr etmiştir?

A) 1125

B) 1875

C) 2275

D) 3000





**TP KAHTA KIZ ANADOLU İMAM HATİP  
FEN VE SOSYAL BİLİMLER PROJE ORTAOKULU  
5.SINIFA KABUL SINAVI**



- 29) Bölme işleminde bölüneni bulmak için bölen ve bölünen çarpılır, çıkan sonuç (kalan var ise) kalanla toplanır.

$$\begin{array}{r} ? \\ \hline 23 \end{array} \left| \begin{array}{r} \square \\ 20 \end{array} \right.$$

Yandaki bölme işleminde bölünen en az kaç olabilir?

- A) 437                      B) 457  
C) 460                      D) 503



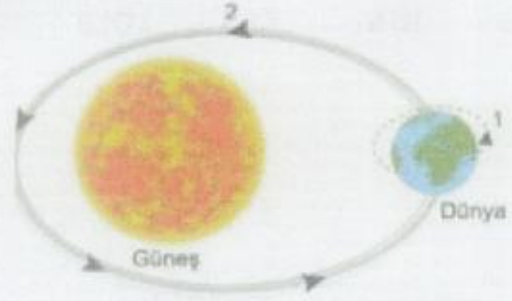
- 30) Toplama işleminde verilmeyen toplananı bulmak için toplamdan, verilen toplanan çıkartılır.

Buna göre aşağıdaki toplama işleminde  $(A \times B) + C$  kaçtır?

$$\begin{array}{r} ABC \\ 418 \\ +ABC \\ \hline 886 \end{array}$$

- A) 12                      B) 18  
C) 9                      D) 10

- 31) Dünya'nın kendi etrafındaki ve Güneş etrafındaki hareketi şekildeki gibi numaralanarak verilmiştir.



Bu şekle göre Dünya'nın numaralanmış hareketleri ile ilgili aşağıdakilerden hangisi söylenebilir?

- A) Dünya'nın kendi etrafındaki hareketi 2 numara ile gösterilmiştir.  
B) 2 numaralı hareketini bir günde tamamlar.  
C) 1 numaralı hareketi sonucu gece ve gündüz oluşur.  
D) Dünya'nın Güneş etrafındaki hareketi 1 numara ile gösterilmiştir.

- I. Karbonhidratlar  
II. Vitaminler  
III. Yağlar

- 32) Yukarıdaki besinlerden hangisi veya hangileri vücut için gerekli olan enerjiyi sağlar?

- A) I - III                      B) Yalnız III  
C) Yalnız I                      D) II - III





**TP KAHTA KIZ ANADOLU İMAM HATİP  
FEN VE SOSYAL BİLİMLER PROJE ORTAOKULU  
5. SINIFA KABUL SINAVI**



33) Betül bazı cisimlerle aşağıda gösterildiği gibi bir etkinlik yapıyor.  
Buna göre bu ifadelerden hangileri esnek cisimlere örnek gösterilebilir?



I. Taşı sıkıldığında taşın şekline bir değişim olmuyor.



II. Plastik topu sıkıp bıraktığında plastik top eski haline geri dönüyor.



III. İçi boş karton kutuyu sıkabiliyor ancak bıraktığında kutu eski halini almıyor.

- A) Yalnız I.  
B) Yalnız II.  
C) II ve III.  
D) I, II ve III.

34) Bir öğrenci sağlıklı ve dengeli beslenmeye uygun olarak kahvaltılık tablodaki besinlerden seçim yapıyor.

Yumurta ①	Zeytin ②	Süt ③
Bal ④	Tahilli ekmek ⑤	Kremalı bisküvi ⑥
Asitli gazoz ⑦	Peynir ⑧	Pasta ⑨

Buna göre kaç numaralı besinleri seçmesi uygun olmaz?

- A) 1, 3, 4  
B) 2, 4, 8  
C) 3, 5, 8  
D) 6, 7, 9

35) Şekillerde kuvvetin cisimler üzerindeki etkilerine örnekler veriliyor.



Duran topa vuruyor



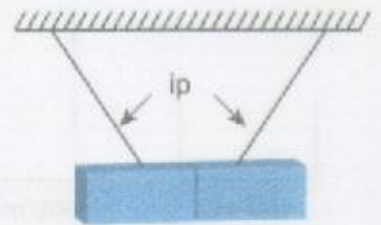
Odun parçasını kırıyor



Bisikletin frenine basarak duruyor

Bu örneklerle bakılarak kuvvetin etkileri ile ilgili aşağıdakilerden hangisi söylenemez?

- A) Cisimlerin şeklini değiştirebilir.  
B) Uygulandığı her cismi durdurur.  
C) Duran cisimleri hareket ettirebilir.  
D) Cisimleri yavaşlatabilir.



36) Öğretmen üstü kapatılmış iki çubuk maddenin şekildeki gibi ipe olduğu halde yapıştığını gösteriyor.

Buna göre aşağıdaki yorumlardan hangisi yanlış olur?

- A) İki çubuk madde mıknatıs olabilir.  
B) Çubuk maddelerden biri mıknatıs diğeri demir olabilir.  
C) Çubuk maddelerin yapıştığı kısım, aynı kutuplu mıknatıslardır.  
D) Çubuk maddelerin yapıştığı uçlar, zıt kutuplu mıknatıslardır.

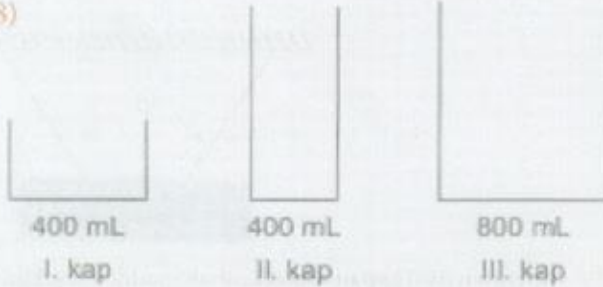
37) Bir öğrenci, hazırladığı tablodaki varlıkları özelliklerine ve kullanıldıkları yere göre sınıflandırıyor. Bunun için "✓" işaretini kullanıyor. Fakat bir tanesini yanlış işaretliyor.

Öğrencinin tabloda yanlış işaretlediği varlık ve sınıflama hangisidir?

Varlık adı	Madde	Cisim	Malzeme	Eşya
Çay bardağı	✓	✓		✓
Un	✓		✓	
Sıvı yağ	✓	✓	✓	
Makas	✓	✓		

- A) Makas Madde  
B) Un Malzeme  
C) Çay bardağı Eşya  
D) Sıvı yağ Cisim

38)



1 litre süt, sırasıyla şekildeki I, II ve III. kaplara boğaltılıyor. Boğaltma işlemi yapılırken bir önceki kap tamamen dolmadan sonrakine geçilmiyor.

Buna göre aşağıdakilerden hangisi söylenebilir?

- A) En fazla süt miktarı III. kapta bulunur.  
B) I. ve II. kaplardaki sütün toplamı III. kapta sütü eşittir.  
C) III. kap içine belli bir miktar daha süt ilave edilebilir.  
D) Kaplardaki sütün hacmi buldukları kabın hacmine eşittir.

39) Bir öğrenci aynı tür naylon poşetlere ekme, elma ve peynir dilimlerini koyup poşeti hava almayacak şekilde kapatıyor. Poşetleri aynı ortamda üç gün süreyle beklettikten sonra poşetlerde şekildeki gibi su damlacıklarının biriktiğini görüyor.

Öğrenci sadece bu gözlemine göre aşağıda verilen sorulardan hangisine cevap arıyor olabilir?



Ekmek dilimleri



Elma dilimleri



- A) Besinlerin yapısında su bulunur mu?  
B) Besinlerin yapısında mineral bulunur mu?  
C) Besinlerin yapısında vitamin bulunur mu?  
D) Besinlerin yapısında protein bulunur mu?

40)

Dünya'nın Güneş etrafında dolanma hareketinden dolayı sıcaklık değişimleri yaşanır.

Bu sıcaklık değişimleri beraberinde aşağıdaki hangi olayı meydana getirir?

- A) Mevsimleri  
B) Haftaları  
C) Gece ve gündüzü  
D) Ayları



**TP KAHTA KIZ ANADOLU İMAM HATİP  
FEN VE SOSYAL BİLİMLER PROJE ORTAOKULU  
5. SINIFA KABUL SINAVI**



41) Mustafa Kemal Paşa'ya "gazilik" unvanı hangi savaşta başarılarından dolayı verilmiştir?

- A) Büyük Taarruz
- B) I. İnönü Savaşı
- C) Başkumandan Meydan Muharebesi
- D) Sakarya Meydan Muharebesi

42) Milli Mücadele sırasında oluşan gelişmeleri doğru olarak sıralanışı hangisidir?

- I. Sivas'ta kongre toplandı.
- II. Mustafa Kemal Atatürk Samsun'a çıktı.
- III. Cumhuriyet ilan edildi.
- IV. Türkiye Büyük Millet Meclisi açıldı.
- V. Erzurum 'da kongre toplandı.

- A) I,II,III,IV,V
- B) II,V,I,IV,III
- C) II,V,I,III,IV
- D) II,IV,V,III,I

43) Aşağıdaki ifadelerin hangisinde hava durumundan söz edilmemiştir?

- A) Yarın sıcaklık daha da düşecek.
- B) Sis bastınca trafik çok aksıyor.
- C) Buralarda kışlar çok sert ve uzun sürer.
- D) Şiddetli esen rüzgârdan bazı ağaçlar devrildi.



Türkiye haritasındaki A noktasından doğuya doğru gitmek için kaç numaralı ok yönünde hareket edilmelidir?

- A) 1
- B) 2
- C) 3
- D) 4

45) Nüfus cüzdanımızda bulunan aşağıdaki bilgilerden hangisi kesinlikle kişiye özeldir?

- A) Doğum yeri
- B) Doğum yılı
- C) T.C. kimlik numarası
- D) Nüfusa kayıtlı olduğu il





**TP KAHTA KIZ ANADOLU İMAM HATİP  
FEN VE SOSYAL BİLİMLER PROJE ORTAOKULU  
5.SINIFA KABUL SINAVI**

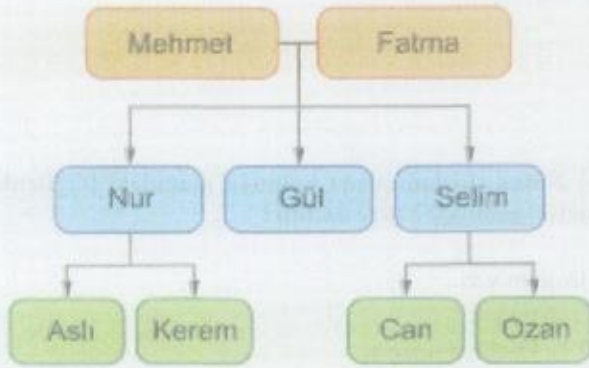


46) Yunan güçlerinin İzmir ve çevresini işgal etmesi üzerine Türk milletinin ilk tepkisi, aşağıdakilerden hangisi olmuştur?



- A) Ankarada TBMM'yi açmak
- B) Kuvayi milliye birliklerini kurmak
- C) Düzenli ordu birliklerini oluşturmak
- D) Erzurum ve Sivas Kongreleri'ni Toplamak

47)



Bu soy ağacına göre aşağıda verilen isimlerden hangileri birbirlerine en uzak iki akrabadır?

- A) Nur ile Selim
- B) Kerem ile Can
- C) Can ile Selim
- D) Ozan ile Nur

48) Aşağıdakilerden hangisi milli kültürümüzü yansıtan eşyalardan biri değildir?



49) Yandaki haritada numaralandırılan dairelerden hangisi körfezi gösterir?



- A) 1
- B) 2
- C) 3
- D) 4



**TP KAHTA KIZ ANADOLU İMAM HATİP  
FEN VE SOSYAL BİLİMLER PROJE ORTAOKULU  
5. SINIFA KABUL SINAVI**



50) Pusula - - 1 - - bulmada kullanılan bir alettir. Pusula yere - - 2 - - olacak şekilde koyular sabitlendiğinde pusulanın renkli ucu - - 3 - - yönünü gösterir.

Yukarıda numaralandırılarak boş bırakılan yerlere sırasıyla aşağıdakilerden hangileri gelmelidir?

	1	2	3
A)	Yön	Dikey	Kuzey
B)	Yön	Yatay	Kuzey
C)	Yükseklik	Yatay	Güney
D)	Sıcaklık	Eğik	Batı



51) Resme göre doğru şıkkı seçiniz.

Sakura is .....  
She is from .....

- A) Turkish / Turkey B) German / Germany  
C) Japanese / Japan D) Spanish / Spain

52) I can ----, but I can't ----.



- A) dive / swim B) fly / walk  
C) run / fly D) swim / walk



53) Boşluklara gelmesi gereken kelimeler hangi seçenekte verilmiştir?

I ---- up at eight o'clock. I ---- breakfast and ---- to school in the mornings.

- A) stand / read / sleep  
B) eat / study / brush  
C) wake / play / listen  
D) get / have / go

54) Eşleştirmelerden hangisi yanlıştır?



I wake up early in the mornings.

I have lunch at noon.



I wash my face in the mornings.

I watch TV at night.

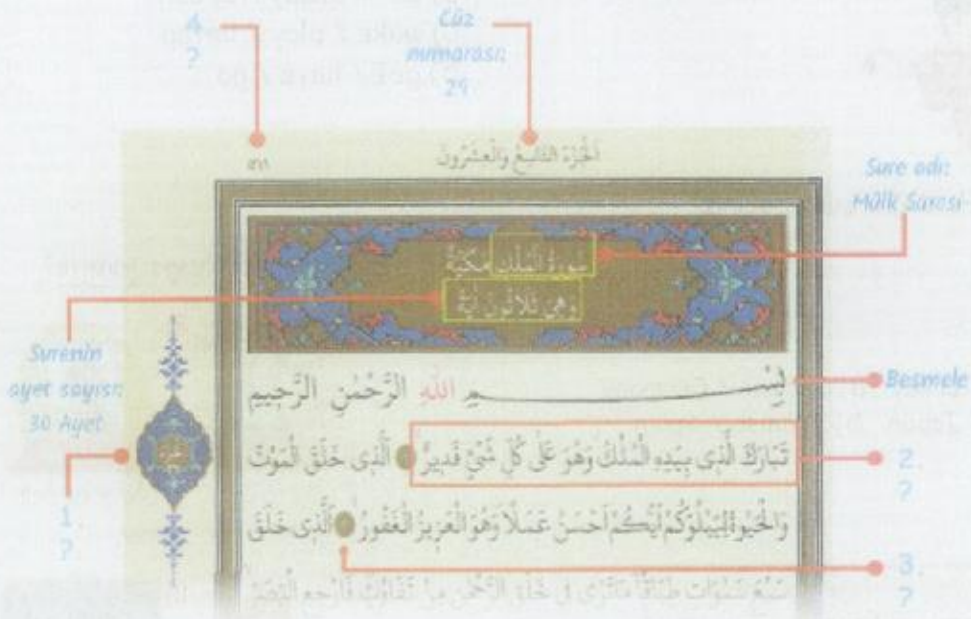


TP KAHTA KIZ ANADOLU İMAM HATİP  
FEN VE SOSYAL BİLİMLER PROJE ORTAOKULU  
5.SINIFA KABUL SINAVI



55) Eşleştirmelerden hangisi doğrudur?

- A) Where is Turkey? I'm from Turkey.
- B) Where are you from? He is from China.
- C) Where is he from? It is in the south.
- D) Is she from Russia? Yes, she is.



56) Yukarıda örnek verilen Kuran-ı Kerim sayfasından soru işaretleri ile gösterilen yerlere sırasıyla aşağıdakilerden hangisi getirilmelidir?

- |    | 1              | 2              | 3             | 4              |
|----|----------------|----------------|---------------|----------------|
| A) | Sayfa Numarası | Ayet           | Ayet Numarası | Cüz Numarası   |
| B) | Cüz Numarası   | Ayet           | Ayet Numarası | Sayfa Numarası |
| C) | Ayet           | Sayfa Numarası | Cüz Numarası  | Ayet Numarası  |
| D) | Cüz Numarası   | Ayet Numarası  | Ayet          | Sayfa Numarası |



**TP KAHTA KIZ ANADOLU İMAM HATİP  
FEN VE SOSYAL BİLİMLER PROJE ORTAOKULU  
5.SINIFA KABUL SINAVI**



57) Ahmet Dede torununa sınava girmeden önce "Yüce Allah'ı(cc) anarak başlanmayan söz veya iş bereketsizdir" Hadis-i Şerifini hatırlattı. Buna göre Ahmet Dede torunundan ne yapmasını istemiş olabilir?

- A) Sınavda heyecan yapmamasını, sakin olmasını
- B) Sınavda olumlu düşünceler içerisinde olmasını
- C) Sınava besmele ile başlamasını
- D) Sınava başlarken güzel söz söylemesini

- ( ) Anne babamıza saygılı olmak.
- ( ) Alkol kullanmak.
- ( ) Arkadaşının malını izinsiz alıp kullanmak.
- ( ) Simidinin yarısını arkadaşına vermek.
- ( ) Çeşmeyi açık bırakmak.

58) Yukarıdaki davranışların sevap veya günah olduklarını parantez içine S ve G harfleri ile yazdığımızda hangi şık doğru olur?

- A) S, G, G, G, S    B) S, G, S, S, S
- C) S, G, G, G, G    D) S, G, G, S, G

59) Kelime-i Şehadet getiren bir müslüman İslam'ın inanç esaslarından hangilerini kabul ve ifade etmiş olur?

- A) Allah'a ve ahirete iman
- B) Allah'a ve kitaplara iman
- C) Peygamberlere ve meleklerle iman
- D) Allah'a ve peygambere iman

"Allah'ım İbrahim peygambere ve ailesine merhamet ettiğin gibi, Hz. Muhammed'e ve aile fertlerine de merhamet et. Şüphesiz ki Sen şanı yüce ve övülmeye layık olansın" anlamındaki salli-bârik dualarına ..... duaları da denir.

60) Yukarıdaki boşluğa hangi dini ifade getirilmelidir?

- A) Sübhanallah    B) Salavat
- C) Estağfirullah    D) Tekbir



**BAŞARILAR DİLERİZ**  
**CEVAPLARINIZI CEVAP KAĞIDINIZDA**  
**KONTROL ETMEYİ UNUTMAYINIZ**

**İLETİŞİM**

**0 416 725 94 42 - 0532 237 52 77**